

CAIET INTEGRAT

clasa
pregătitoare



Cuvânt-înainte 3

SEMESTRUL I

U. Î. I. Toamna

Săptămâna 1. Toamna începe școala! Recunoașterea culorilor
Figuri geometrice plane. Semne grafice 4

Săptămâna 2. Prietenii mei. Orientarea și localizarea în spațiu
Descrierea mediului apropiat. Semne grafice 6

Săptămâna 3. Comunitatea mea. Orientarea și localizarea în
spațiu Compararea elementelor unei mulțimi. Figuri geometrice
plane 8

Săptămâna 4. A, 1, 0. Literele a, A. Numerele și cifrele 1/0 10

Săptămâna 5. M, 2. Literele m, M. Numărul și cifra 2 12

U. Î. II. Lumea plantelor

Săptămâna 6. I, 3. Literele i, I. Numărul și cifra 3..... 14

Săptămâna 7. N, 4. Literele n, N. Numărul și cifra 4 16

Săptămâna 8. U, 5. Literele u, U. Numărul și cifra 5 18

U. Î. III. Lumea necuvântătoarelor

Săptămâna 9. O, 6. Literele o, O. Numărul și cifra 6 20

Săptămâna 10. E, 7. Literele e, E. Numărul și cifra 7 23

Săptămâna 11. R, 8. Literele r, R. Numărul și cifra 8 25

Verificare 27

U. Î. IV. Iarna

Săptămâna 12. C, 9. Literele c, C. Numărul și cifra 9 28

Verificare 30

Săptămâna 13. L, 10. Literele l, L. Numărul 10 31

Verificare 33

U. Î. V. Omul

Săptămâna 14. S. Literele s, S. Adunarea și scăderea cu 1 34

Verificare 35

Săptămâna 15. D. Literele d, D. Adunarea și scăderea cu 2 36

Săptămâna 16. B. Literele b, B. Adunarea și scăderea cu 3 39

Săptămâna 17. P. Literele p, P. Adunarea și scăderea
cu 4/5 41

Verificare 43

SEMESTRUL AL II-LEA

U. Î. VI. Organizarea activităților

Săptămâna 18. A-P. Recapitulare A-P. Adunări și scăderi în
concentrul 0-10 44

Verificare 45

Verificare 46

Săptămâna 19. T. Literele t, T. Numerele naturale
de la 10 la 20 47

Verificare 49

Săptămâna 20. Ăăă! Literele ă, Ă. Numerele naturale
de la 20 la 31 50

Verificare 52

U. Î. VII. Primăvara

Săptămâna 21. Țțț! Literele ț, Ț. Numerele naturale
de la 0 la 31 53

Săptămâna 22. V. Literele v, V. Adunarea și scăderea în
concentrul 0-20 cu 1-2 unități, fără și cu trecere peste ordin .. 56

Săptămâna 23. Șșș! Literele ș, Ș. Adunarea și scăderea în
concentrul 0-20 cu 3 unități, fără și cu trecere peste ordin 59

U. Î. VIII. Apa

Săptămâna 24. H. Literele h, H. Adunarea și scăderea în
concentrul 0-20 cu 4 unități, fără și cu trecere peste ordin 62

Săptămâna 25. G. Literele g, G. Adunarea și scăderea în
concentrul 0-20 cu 5 unități, fără și cu trecere peste ordin 65

Săptămâna 26. Î, î, î... Literele î, Î, â. Adunări/ scăderi
repetate 68

U. Î. IX. Corpuri

Săptămâna 27. J. Literele j, J. Adunarea și scăderea în
concentrul 20-31 cu 1-2 unități, fără și cu trecere
peste ordin 71

Săptămâna 28. F. Literele f, F. Adunarea și scăderea în
concentrul 20-31 cu 3 unități, fără și cu trecere peste ordin 74

Verificare 76

U. Î. X. Munca

Săptămâna 29. Z. Literele z, Z. Adunarea și scăderea în
concentrul 20-31 cu 4 unități, fără și cu trecere peste ordin 77

Verificare 79

Săptămâna 30. K. Literele k, K. Adunarea și scăderea în
concentrul 20-31 cu 5 unități, fără și cu trecere peste ordin 80

U. Î. XI. Vara

Săptămâna 31. X. Literele x, X. Adunarea și scăderea în
concentrul 20-31 84

Verificare 87

Săptămâna 32. W, Y, Q. Literele w, W, y, Y, q, Q. Adunări și
scăderi în concentrul 0-31. Recapitulare. Legătura dintre plante,
animale, om 88

Săptămâna 33. Ne pregătim pentru clasa I. Colectarea,
selectarea și gruparea datelor. Probleme cu 1-5 unități
în concentrul 0-31 92

Verificare 93



Săptămâna 34. Ne pregătim pentru clasa I. Colectarea,
selectarea și gruparea datelor. Adaptarea plantelor și animalelor la
condiții de viață 94

Verificare 95



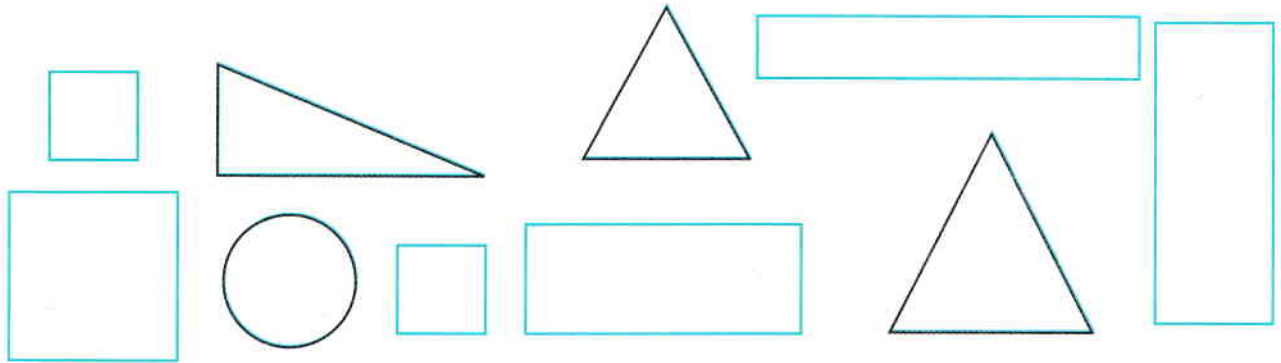
- Recunoașterea culorilor
- Figuri geometrice plane
- Semne grafice

1. Conturați elementele tabloului, apoi colorați corespunzător anotimpul toamna.

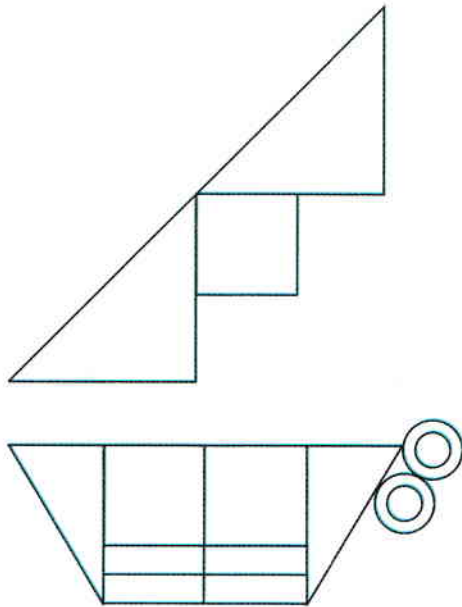


2. Scrieți în culori diferite elementele grafice date.

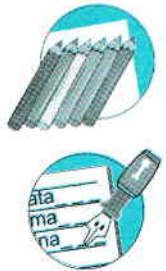
Formați mulțimi de elemente cu aceeași formă și aceeași culoare.



4.

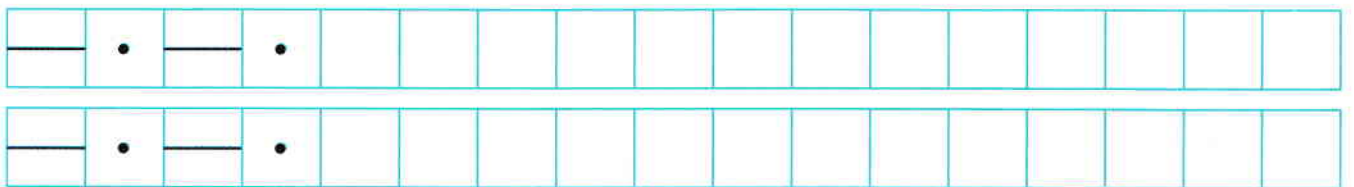


	?



5.

Scrieți în culori diferite elementele grafice date.




6.



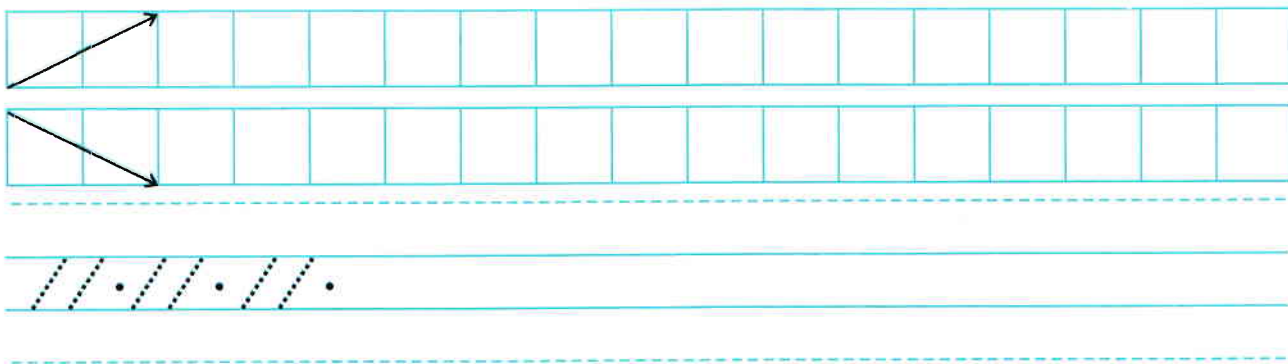


- Orientarea și localizarea în spațiu
- Descrierea mediului apropiat
- Semne grafice

- 1.
- a) Bifați obiectul care se află pe perete.
 - b) Încercuiți cel puțin trei perechi de elemente de același fel.
 - c) Barați floarea mai mică.
 - d) Colorați restul tabloului.




2. Scrieți în culori diferite elementele grafice date.




3. Desenați: a) chipul vostru; b) chipul unui coleg.

a)



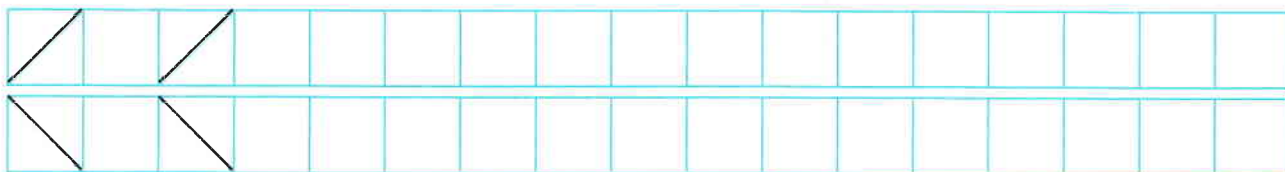
b)




4. Discutați despre importanța apei.



5. Scrieți în culori diferite elementele grafice date.




6. Găsiți calea către ghiozdan.






- Orientarea și localizarea în spațiu
- Compararea elementelor unei mulțimi
- Figuri geometrice plane

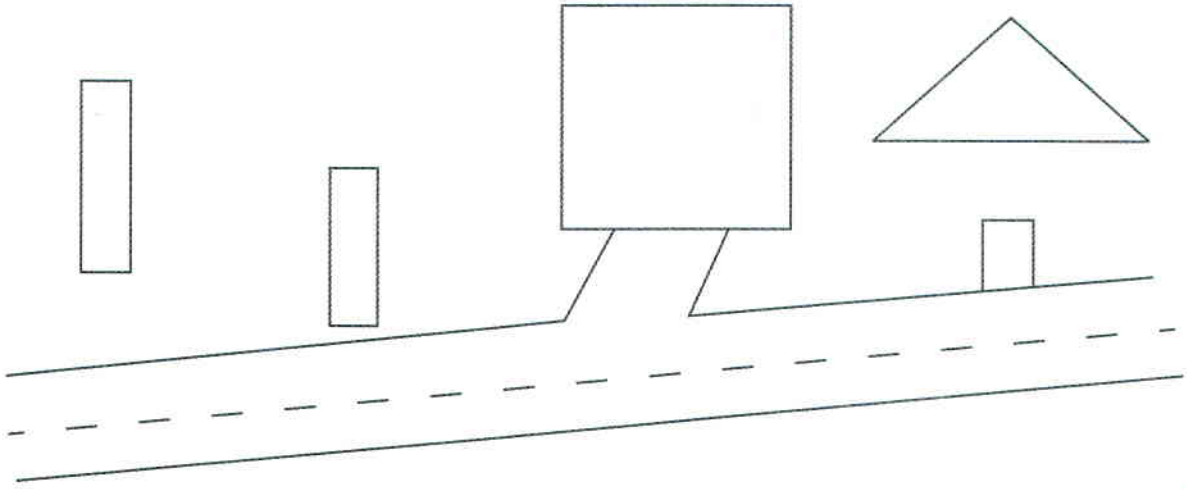
- 1.
- a) Barați locurile permise pentru traversarea străzii.
 - b) Încercuiți obiectele care se află în stânga clădirilor desenate cu verde.
 - c) Subliniați cu o linie copacul cel mai îndepărtat de Poliție.
 - d) Bifați clădirea cu cele mai multe ferestre.



2.



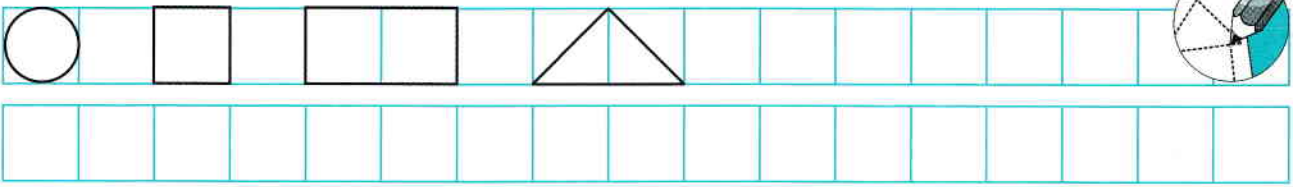
3. Completați desenul folosind figuri geometrice ○, □, △ și semne grafice cunoscute.



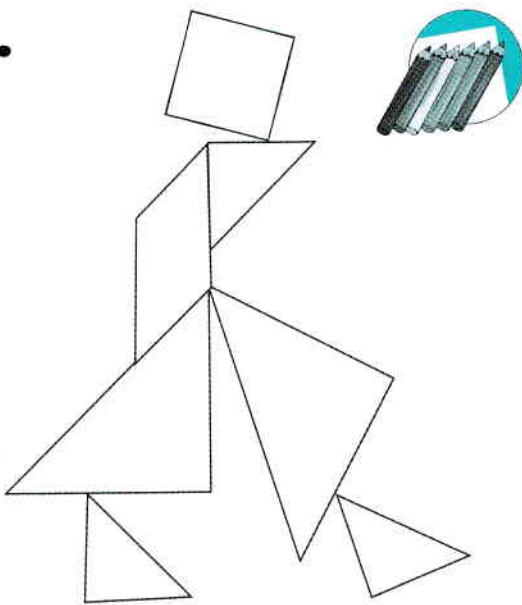
4.



5.



6.



7. Desenați camera proprie.

